

به نام خدا

<https://telegram.me/questions1>

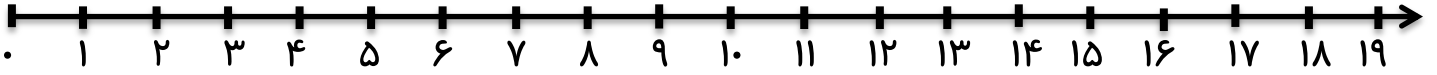
بزرگترین تجمع کلاس اولی ها در تلگرام

مبحث محور دستان دخترانه شهدای صایران

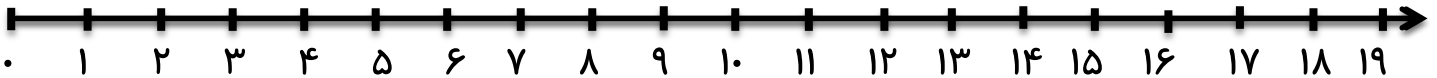
نام و نام خانوادگی: .....

$$5 + 2 + 3 = \square$$

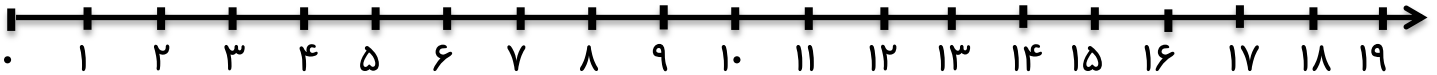
هر جمع و تفریق را روی محور نشان بده.



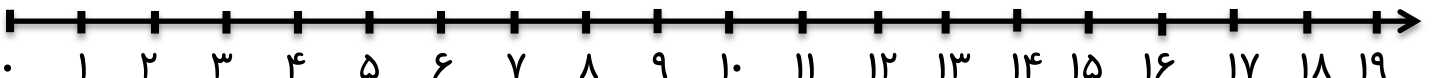
$$13 - 5 = \square$$



$$5 + 4 = \square$$



$$11 - 3 = \square$$



$$4 + 5 + 3 = \square$$

